



3  Complète les phrases.

- a) 1 de plus que 72, c'est .
- b) 1 de moins que 88, c'est .
- c) 10 de plus que 67, c'est .
- d) 10 de moins que 94, c'est .


4  Additionne.

a)  $62 + 36 = \square$

	Dizaines	Unités
	6	2
+	3	6
	<input type="text"/>	<input type="text"/>

b)  $57 + 37 = \square$

	Dizaines	Unités
	5	7
+	3	7
	<input type="text"/>	<input type="text"/>

4  Soustrais.

a)  $94 - 21 = \square$

	Dizaines	Unités
	9	4
-	2	1
	<input type="text"/>	<input type="text"/>

b)  $88 - 76 = \square$

	Dizaines	Unités
	8	8
-	7	6
	<input type="text"/>	<input type="text"/>