


Mon problème du jour -37-



Zoé a **3 enveloppes**.

Chaque enveloppe contient **5 photos**.

Combien Zoé a-t-il de photos ?



Je cherche	Je calcule
Je réponds <i>Zoé</i>	

Mon problème du jour -38-



Zoé a **3 enveloppes**.


Dans chacune des enveloppes, il y a **4 photos** de Gribouille.

Combien y a-t-il de photos en tout ?



Je cherche	Je calcule
Je réponds <i>Il y a</i>	

Mon problème du jour -39-



Au supermarché, les gâteaux sont vendus par **paquets de 20**.


Zoé achète **3 paquets**.

Combien de gâteaux a-t-elle acheté ?



Je cherche	Je calcule
Je réponds <i>Zoé</i>	

Mon problème du jour -40-



Une raquette de ping-pong coûte **8 euros**.

Arthur donne un billet de **10 euros** au marchand.

Que va faire le marchand ?



Je cherche	Je calcule
Je réponds <i>Le marchand</i>	