



1  Entoure la bonne égalité.

 Complète la phrase.

a) Thuan a 14 livres.

Amélie a 5 livres de moins que Thuan.

Combien de livres Amélie a-t-elle ?



$14 + 5 = 19$

$14 - 5 = 9$

Amélie a livres.

b) Rakib a 14 figurines.

Il en a 5 de plus que Fanny.


Combien de figurines Fanny a-t-elle ?



$14 + 5 = 19$

$14 - 5 = 9$

Fanny a figurines.

2  Lisa a des caramels.

Elle en donne 9 à deux amis. Il lui en reste 10.

Combien de caramels avait-elle au début ?

Lisa avait caramels au début.

3 🔍 Observe la stratégie d'Alice pour additionner.

$$\begin{array}{r} 57 \xrightarrow{-2} 55 \\ + 28 \xrightarrow{+2} + 30 \\ \hline 85 \end{array}$$



✍ Additionne comme Alice.

a) $45 + 38 = \square$

b) $39 + 57 = \square$

4 🔍 Observe la stratégie d'Idris pour soustraire.

$$\begin{array}{r} 72 \xrightarrow{+2} 74 \\ - 28 \xrightarrow{+2} - 30 \\ \hline 44 \end{array}$$



✍ Soustrais comme Idris.

a) $65 - 28 = \square$

b) $83 - 59 = \square$

5 Énigmes !

a) ✍ Je pense à deux nombres à 2 chiffres dont la somme est 100. Les deux nombres ont 5 comme chiffre des unités. Quels peuvent être ces deux nombres ?

b) ✍ Invente une énigme et donne-la à résoudre à ton voisin.